

6 класс история на 22.05

Тема урока «Обобщение по теме «Русские земли в середине XIII-XV вв», Итоговое тестирование по теме «История России с древнейших времен до начала XVI в»
Здравствуйтесь! Ребята, сегодня мы заканчиваем изучение истории за 6 класс. Пришло время проверить знания которые вы получили за год. Будьте внимательны при чтении вопросов. Не торопитесь. У вас два теста. Жду Ответы.

УДАЧИ

Первый вариант решают Женя и Надя, Второй вариант решают Карина и Саша

Система оценивания.

Все задания оцениваются в 1 балл, кроме 10 задания. Задание 10 оцениваются в 4 балла (за каждый правильный ответ – один балл).

Оценка	Баллы
«Неудовлетворительно»	Менее 10
«Удовлетворительно»	10-14
«Хорошо»	15-18
«Отлично»	19-21

Контрольное тестирование по истории России. Тема: «Русские земли в середине XIII-XIV вв.» 6 класс

1 вариант.

1. В каком году состоялась битва русских дружин с монголо-татарами на реке Калке:

- 1) 1238 г.; 2) 1223 г.; 3) 1240г.; 4) 1227 г.

2. Какой русский город держал оборону от монголо-татар семь недель:

- 1) Рязань; 2) Козельск; 3) Торжок; 4) Киев.

3. Где располагалось Владимире-Суздальское княжество?

- 1) в Приднестровье; 3) в Прикаспии;
2) на берегу Балтийского моря; 4) в междуречье Оки и Верхней Волги.

4. Верховная власть в Новгороде принадлежала

- 1) князю; 2) военному совету; 3) тысяцкому; 4) вече.

5. Укажите имя князя, о котором идёт речь: «...Много потрудившись за землю Русскую, за Новгород и за Псков, за все великое княжение, отдавая живот свой и за православную веру», – так писал летописец о князе

- 1) Андрее Боголюбском; 3) Александре Невском;
2) Данииле Галицком; 4) Владимире Мономахе.

6. Ордынский выход – это:

- 1) дань, которую русские князья платили Орде; 3) процесс дробления Золотой Орды;
2) завоевательный поход монголо-татар; 4) прекращение монголо-татарского ига.

7. Во главе монгольского войска, двинувшегося на Русь в 1237 г., стоял:

- 1) Чингисхан; 2) Батый; 3) Мамай; 4) Тохтамыш.

8. Прочтите отрывок из сочинения историка о событиях XIII в. и напишите князя, о котором идет речь. *«Не обнаружив шведов у Ладоги, [князь] двинулся на запад, к устью Невы, усилив свое войско отрядом ладожан. Получив... уточняющие данные о расположении шведского лагеря, сумев не обнаружить себя, [князь] нанес по лагерю неожиданный удар. Был воскресный день 15 июля, сравнительно рано – половина девятого утра по современному часосчислению, когда на ничего не подозревавших шведов обрушились русские полки. Часть их бросилась на корабли, стоявшие у левого берега Невы, другая старалась переправиться на левый берег р. Ижоры. Предводитель шведского войска пытался оказать сопротивление, построив оставшихся в боевые порядки, но все было тщетно».*

Ответ: _____.

9. Почему героями новгородских былин были корабельщики-мореплаватели?

- 1) одним из главных занятий новгородцев была торговля
- 2) новгородцы строили и продавали корабли
- 3) территория Новгородской земли была значительно удалена от моря
- 4) правителей Новгорода выбирали из числа мореплавателей

10. Соотнесите термины и определения:

Термины	Определения
А) баскак;	1) господство;
Б) ярлык;	2) представитель ордынского хана на Руси;
В) численник;	3) переписчик населения;
Г) владычество.	4) ханская грамота на княжение.

А)	Б)	В)	Г)

11. В Новгородской земле, в отличие от Владимиро-Суздальской:

- 1) всегда существовала угроза вторжения половцев
- 2) большинство населения было неграмотным
- 3) природные условия благоприятствовали земледелию
- 4) большую роль в политической жизни играло боярство

12. Прочитайте отрывок из сочинения русского историка. Где происходили описываемые события? Приведите доказательства из документа.

Софии решить судьбу Отечества. Первым определением сего шумного веча было изгнать Ярослава... вручили князю грамоту обвинительную: «Для чего завладел ты двором Морткинича? Для чего взял серебро с бояр Никифора, Роман и Варфоломея? Для чего выводил отсюда иноземцев? Да будет ныне конец твоему насилию! Иди, куда хочешь; а мы найдем себе князя».

Ответ: _____
_____.

13. Город, который Батый назвал «злым», — _____.

14. Какое событие произошло позднее других?

- 1) смерть Чингисхана;
- 2) сражение на Чудском озере;
- 3) захват монголо-татарами Рязани;
- 4) битва на реке Калке.

15. Кто стоял во главе Золотой Орды?

- 1) князь; 2) каган; 3) вождь; 4) хан.

16. Какой город был столицей Золотой Орды?

- 1) Киев; 2) Булгар; 3) Сарай; 4) Судак.

17. О чем говорится в русской летописи? В лето 1257. Той же зимой приехали чиновники, сочли все земли: Суздальскую, и Рязанскую, и Муромскую, и поставили десятников, и сотников, и тысячников, и темников и ушли в Орду.

- 1) о монгольской переписи населения; 3) о набегах половцев;
2) о сборе дани князем Игорем; 4) о действиях крестоносцев.

18. Образовавшаяся Золотая Орда являлась частью

- 1) государства Хорезмшахов; 3) Монгольской империи;
2) Половецкой степи; 4) Крымского ханства.

**Контрольное тестирование по истории России.
Тема: «Русские земли в середине XIII-XIV вв.».
6 класс**

2 вариант.

1. С событиями какого века связано имя Александра Невского?

- 1) X в.; 2) XI в.; 3) XIII в.; 4) XIV в.

2. Что было характерно для Владимиро-Суздальского княжества?

- 1) сильная княжеская власть; 3) национальная однородность населения;
2) большая роль веча; 4) зависимость от киевского княжества.

3. Первое сражение русских дружин с монголо-татарами произошло у реки:

- 1) Угры; 2) Калки; 3) Днепра; 4) Сити.

4. Что из названного относилось к итогам похода Батыея в Юго-Западную Русь:

- 1) Захват и разгром Киева; 3) Начало политической раздробленности на Руси;
2) Разорение Великого Новгорода; 4) Взятие города Владимира.

5. О чем свидетельствовало большое количество берестяных грамот, найденных археологами в Новгороде?

- 1) о развитии ремесла; 3) об образованности населения;
2) об отсутствии на Руси книг; 4) об обилии леса в Новгородской земле.

6. «Ярлык» - это:

- 1) Столица Золотой Орды; 3) монгольский сборщик дани;
2) грамота на великое княжение; 4) почтовый налог.

7. Кто стоял во главе русских войск, одержавших победу на льду Чудского озера?

- 1) Дмитрий Донской; 2) Александр Невский; 3) Святослав Игоревич; 4) Юрий Иванович.

8. Прочтите отрывок из жития и напишите название сражения, о котором говорится в отрывке: *«Когда приблизились немцы, то поведали о них стражи. Князь же Александр приготовился к бою, и пошли они друг против друга, и покрылось озеро... множеством тех и других воинов»*

Ответ: _____.

9. Когда произошли события, описанные в отрывке из летописи?

Пришел Батый к Киеву с большой силой, с многим множеством воинов. Был Батый у города, а воины его окружали город. И нельзя было голоса слышать от скрипения телег его, от рева множества верблюдов его, ржания стад коней его, и была вся земля Русская наполнена воинами.

- 1) в 1223 г.; 2) в 1237 г.; 3) в 1240 г.; 4) в 1242 г.

10. Соотнесите название события и его дату:

Событие	Дата
А) Ледовое побоище;	1) 1223 г.;
Б) Оборона Рязани;	2) 1240 г.;
В) Битва на реке Калке;	3) 1242 г.;
Г) Взятие Киева монголо-татарами.	4) 1237 г.

А)	Б)	В)	Г)

11. Какой город не был взят во время нашествия монголо-татар на Русь?

- 1) Козельск; 2) Новгород Великий; 3) Рязань; 4) Владимир.

12. Основатель Монгольского государства — _____.

13. Что послужило причиной поражения русских войск в борьбе с монголо-татарами?

- 1) плохие погодные условия;
2) отсутствие у русских князей конницы;
3) феодальная раздробленность на Руси;
4) военная помощь, которую половцы оказали монголам.

14. В Невской битве сражались:

- 1) москвичи против новгородцев; 3) новгородцы против шведов;
2) рязанцы против монголо-татар; 4) псковичи против половцев.

15. Каков был результат битв на реке Неве и Чудском озере?

- 1) Русь захватила все побережье Балтийского моря;
2) было положено начало объединению русских земель;
3) было остановлено наступление монголо-татар;
4) было предотвращено распространение католицизма в русских землях.

16. Какое событие произошло ранее других?

- 1) сражение на Чудском озере;
2) захват монголо-татарами Киева;
3) битва на реке Калке;
4) провозглашение Чингисхана верховным правителем Монгольского государства.

17. С какой целью Александр Невский принял участие в подавлении новгородского восстания, направленного против монголо-татар?

- 1) предотвратить новое ордынское нашествие;

- 2) занять должность новгородского посадника;
- 3) принять ислам;
- 4) заручиться поддержкой Орды для нападения на Византию.

18. Чему способствовал переезд главы русской православной церкви из Владимира в Москву?

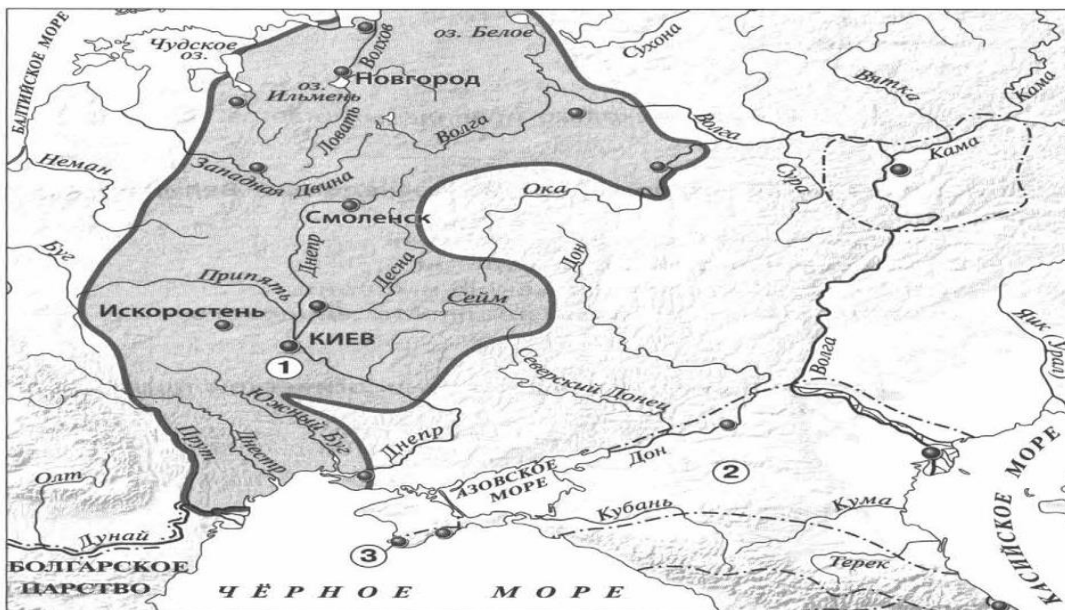
- 1) объединению русских земель;
- 2) обострению религиозных противоречий;
- 3) падению авторитета Московского княжества;
- 4) возвышению Москвы.

**Итоговая контрольная работа по истории 6 класс
Вариант 1**

Часть 1.

1. Империю франков создал:
А) Хлодвиг б) Пипин короткий в) Карл Великий г) майордом
2. Война алой и белой розы произошла в:
А) Франции б) Англии в) Германии г) Чехии
3. Грамота о прощении грехов называлась:
А) индульгенция б) десятина в) спекуляция г) феод
4. В какой город был приглашен княжить Рюрик:
А) Киев б) Новгород в) Изборск г) Ладога
5. К какому веку относится правление Владимира Мономаха в Киеве:
А) XII б) XI в) XIII г) IX
6. Кто из перечисленных пар были современниками: А) В. Мономах и Иван I
Б) Иван III и Софья Палеолог В) Нестор и Рюрик Г) Д. Донской и Биргер
7. Какое событие произошло в 1242г?
А) Битва на р. Калке б) начало похода Батые на Русь
в) Невская битва Г) Ледовое побоище
8. Какое событие произошло позже других:
А) Крещение Руси б) Невская битва в) Куликовская битва г) призвание варягов
9. Первая русская летопись называлась:
А) «Повесть временных лет» б) «Слово о погибели земли русской»
В) «Слово о полку Игореве» г) «Задонщина»
10. Русь попала в зависимость от Золотой Орды в результате:
А) нашествия хана Батые б) походов хана Мамае
в) походов хана Кучума г) набегов половцев
11. Владимир Святославович, Иван Калита, Иван III – каково их родовое имя:
А) Романовы б) Гедиминовичи в) Рюриковичи г) Ольгердовичи
12. С событиями, какого века связано имя Александра Невского:
А) X века Б) XI века В) XIII века Г) XIV века
13. О каком деятеле идет речь: «он уделял много внимания просвещению, переводу книг, при нем были возведены Успенский собор и «Золотые ворота» во Владимире...»
А) Иван Калита Б) Владимир I В) Андрей Боголюбский Г) Ярослав Мудрый

Рассмотрите карту «Восточные славяне и их соседи в IV – IX вв.» и выполните задания 14-15.



14. Укажите название Восточнославянского племенного союза, территория расселения которого обозначена на карте цифрой 1:

1) Ильменские словене 2) Кривичи 3) Поляне 4) Вятичи

5. Укажите название города, основанного древними греками, обозначенного на карте цифрой «3».

Часть 2.


Рассмотрите изображения памятников культуры и выполните задания 1, 2.



1.



2.



3.



4.

1. На каких двух из этих четырёх изображений представлены памятники культуры России, а на каких – памятники культуры зарубежных стран? Запишите в таблицу порядковые номера соответствующих памятников культуры. Ответ:

Памятники культуры России	Памятники культуры
---------------------------	--------------------

	зарубежных стран

2. Выберите один из этих четырёх памятников культуры и укажите название города, в котором этот памятник культуры находится в настоящее время.

Ответ должен содержать цифру выбранного памятника и название города. Например, «3. Екатеринбург».

3. Установите соответствие между понятиями и их определениями:

1) вервь 2) тиун 3) закуп 4) рядович

А) княжеский слуга б) община в) работник по договору г) крестьянин, взявший ссуду

4. Расположи киевских правителей в хронологической последовательности:

А) Ярослав Мудрый б) Святослав Игоревич в) Владимир Святославович г) Владимир Мономах

5. Установите соответствие между событиями и датами:

1). Невская битва А. 1223 г.

2). Куликовская битва Б. 1240 г.

3). Ледовое побоище В. 1380 г.

4). Битва на р. Калка Г. 1242 г.

6. Рассмотрите изображение и укажите, два верных суждения из пяти предложенных:



1). Данная марка выпущена к 600-летию со дня смерти изображённого на ней князя.

2). Изображение в левой части марки символизирует результаты Ледового побоища

3). Князь, изображённый на марке, участвовал в битве на реке Сити

4). Князь, изображённый на марке, подавил выступления новгородцев против переписи населения монголами.

5). Князь, изображённый на марке, был дядей родоначальника московской княжеской династии.

7. Прочитайте текст и напишите цифры предложений, в которых содержится ошибка.

Прочитайте текст, в котором каждое предложение пронумеровано. Данный текст содержит две ошибки. Фрагменты текста, в которых, возможно, сделаны ошибки, подчеркнуты и выделены жирным шрифтом.

(1) Андрей Боголюбский был сыном Юрия Долгорукого. (2) Время Андрея Боголюбского — время весьма активной политики владими́ро-сузда́льского князя. (3) Он ведёт успешную войну с Хазарским каганатом. (4) В 1169 г. войска Андрея под предводительством его сына Мстислава взяли Киев. (5) Город был сожжён, горожане частью уведены в плен, частью истреблены. (6) Подчинив себе Киев и получив официально титул великого князя киевского, Андрей, как и его отец в 1055 г., не переехал туда.

Часть 3.

Прочитайте отрывок из летописи и выполните задания.

Пришли Святополк, и Владимир, и Давыд Игоревич, и Василько Ростиславич, и Давыд Святославич, и брат его Олег... и говорили друг другу: «Зачем губим Русскую землю, сами между собой устраивая распри? А половцы землю нашу несут розно и рады, что между нами идут войны. Да отныне объединимся единым сердцем и будем блюсти Русскую землю, и пусть каждый владеет отчиной своей: Святополк — Киевом, Изяславовой отчиной, Владимир — Всеволодовой, Давыд, и Олег, и Ярослав — Святославовой, и те, кому Всеволод роздал города: Давыду — Владимир, Ростиславичам же: Володарю — Перемышль, Васильку — Теробовль».

1. Назовите событие, о котором идёт речь в данном отрывке. Укажите год, когда оно произошло
2. Укажите два решения, принятые в ходе описываемого события.
3. Назовите инициатора проведения описываемого события. Укажите один факт, указывающий на его стремление выполнять принятые решения. Укажите его вклад в развитие древнерусского законодательства.

Итоговая контрольная работа по истории 6 класс

Вариант 2

Часть 1.

1. Империю, существовавшую с 800 по 840 г. создал:

А) Хлодвиг б) Пипин короткий в) Карл Великий г) Урбан 1

2. Восстание по предводительством Яна Гуса произошло в

А) Чехии б) Польше в) Германии г) Франции

3. Погодные изложения событий в Европе назывались...

А) летописи Б) аналлы В) саги Г) жития

4. Первый русский сборник законов назывался:

А) Устав б) Стоглав в) Русская Правда г) Судебник

5. К какому веку относится правление Ярослава Мудрого:

А) XII б) XI в) XIII г) IX

6. Кто из перечисленных пар были современниками:

А) Свенельд и Владимир Мономах Б) Иван I и Ярослав Мудрый

В) Дмитрий Боброк и А. Пересвет Г) Андрей Рублев и А. Невский

7. Битва между монголами и русскими в 1223г. получила название:

А) Ледовое побоище б) Мамаево побоище в) стояние на Угре г) битва на Калке

8. Какое событие произошло раньше других:

А) Крещение Руси б) Невская битва в) Куликовская битва г) призвание варягов

9. Какое литературное произведение было создано в XII веке:

А) «Домострой» б) «Поучение детям» в) «Апостол» г) «Задонщина»

10. Свержение монгольского ига на Руси произошло после:

А) Куликовской битвы б) стояния на реке Угре в) похода Тохтамыша г) набегов половцев

11. Василий Темный, Василий Косой, Дмитрий Шемяка были потомками:

А) Ивана III б) Ивана IV в) Дмитрия Донского г) Василия III

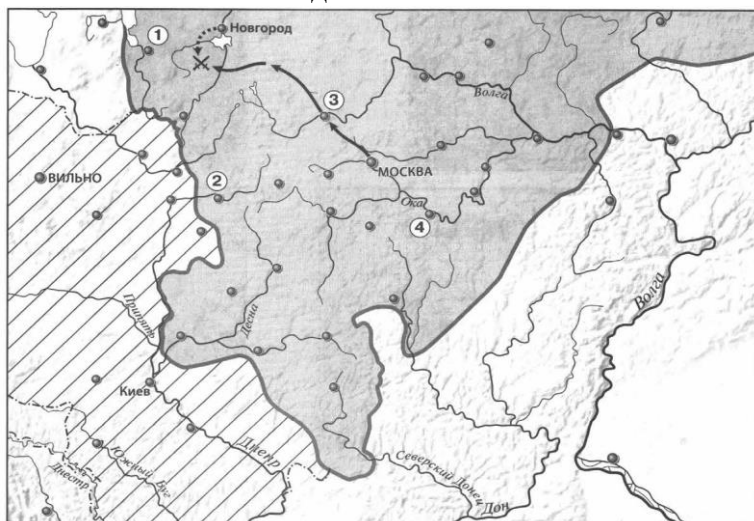
12. В каком веке было введено христианство на Руси:

А) IX б) X в) XI г) VIII

13. С введением уроков и погостов связано имя ...

А) Игоря Старого Б) Олега Вещего В) Ольги Г) Дира

Рассмотрите карту «Российское государство, во второй половине XV - начале XVI века» и выполните задания 14-15.



14. Укажите князя, в период правления которого был совершен поход, обозначенный на карте стрелками:

- 1) Василий I 2) Василий II 3) Иван III 4) Василий III

15. Напишите название государства, территория которого выделена штриховкой.


Часть 2.

Рассмотрите изображения памятников культуры и выполните задания 1, 2.



1.

2.



3.

4.

1. На каких двух из этих четырёх изображений представлены памятники культуры России, а на каких – памятники культуры зарубежных стран? Запишите в таблицу порядковые номера соответствующих памятников культуры. Ответ:

Памятники культуры России	Памятники культуры зарубежных стран

2. Выберите один из этих четырёх памятников культуры и укажите название города, в котором этот памятник культуры находится в настоящее время.

Ответ должен содержать цифру выбранного памятника и название города. Например, «3. Екатеринбург».

3. Установите соответствие между понятиями и их определениями:

1) вира 2) баскак 3) погост 4) бортничество

А) место сбора дани б) сбор меда диких пчел в) штраф г) сборщик дани

4. Расположи московских князей в порядке их правления:

А) Василий III б) Дмитрий Донской в) Иван Калита г) Иван III

5. Установите соответствие между событиями и историческими деятелями:

ИМЕНА

СОБЫТИЯ

1). Невская битва

А. 1223 г.

2). Куликовская битва

Б. 1240 г.

3). Ледовое побоище

В. 1380 г.

4). Битва на р. Калка

Г. 1242 г.

б. Рассмотрите изображение и укажите, два верных суждения из пяти предложенных:



- 1). Данная марка выпущена к 600-летию со дня смерти изображённого на ней князя.
- 2). По приказу князя, изображённого на марке, в Москве была построена деревянная крепость.
- 3). Князь, изображённый на марке, умер в Киеве.
- 4). Князь, изображённый на марке, является родоначальником династии московских князей.
- 5). Князь, изображённый на марке, был сыном Ярослава Мудрого.
7. Прочитайте текст и напишите цифры предложений, в которых содержится ошибка.

Прочитайте текст, в котором каждое предложение пронумеровано. Данный текст содержит две ошибки. Фрагменты текста, в которых, возможно, сделаны ошибки, подчёркнуты и выделены полужирным шрифтом.

(1) В 1359 г. на московский престол взошел **девятилетний** Дмитрий Иванович. (2) Главой московского правительства фактически стал **митрополит Алексий**. (3) И в этом же году Золотая Орда распалась на две части, границей между которыми стала Волга. (4) В западной части Золотой Орды верх взял **темник Мамай**, который не был потомком Чингисхана, а потому не мог претендовать на ханский трон. (5) В 1368 г. литовский князь **Гедимин** повёл на Москву сильную литовско-русскую рать, в составе которой были и полоцкие полки. (6) Новый **дубовый** Кремль выдержал осаду неприятеля, и раздосадованный литовский князь разгромил и пожёг московский посад.

Часть 3.

Прочитайте отрывок из сочинения историка и выполните задания.

Новгородцы бодро вышли навстречу, но на берегах Шелони потерпели поражение от передовой московской рати, которую начальствовал князь Даниил Холмский. При встрече с москвитянами конный архиепископский полк отказался от битвы по тайному наказу архиепископа Феофила. Вообще разбогатевшие новгородские граждане не отличались уже ратным духом и не могли устоять в открытом поле против опытных в военном деле московских и монгольских отрядов. В числе шелонских пленников находился один из сыновей Марфы Борецкой, которого Иоанн велел казнить вместе с тремя другими боярами. Между тем _____ не присылал никакой помощи, в самом Новгороде поднялась партия московских приверженцев и стала одолевать враждебную ей сторону Борецких.

1. Укажите год, когда произошли описываемые события. Укажите короля, имя которого пропущено в тексте.
2. Каковы, по мнению автора, причины поражения новгородского войска в упомянутой в отрывке битве? Укажите 2 причины.
3. Укажите название формы правления в Новгороде в период описываемых событий. В чём проявлялось её существование в Новгороде? Укажите два любых проявления.

Итоговая контрольная работа по истории 6 класс

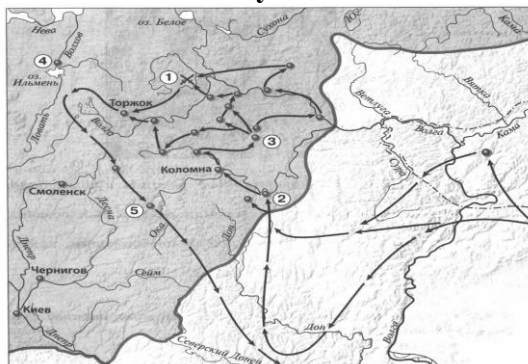
Вариант 3

Часть 1.

1. Правителя, который создал систему бенефиций, звали:
А) Пипин Короткий Б) Карл Великий В) Карл Мартелл Г) Людовик Святой
2. Крестьянское восстание жакерия 1358г. произошло в...

- А) Англии Б) Германии В) Франции Г) Чехии
3. Законы франкского государства назывались...
- А) Салическая Правда Б) Русская Правда В) Судебник Г) Судебное Уложение
4. Из перечня выберите имя языческого бога Солнца...
- А) Велес Б) Дажьдбог В) Перун Г) Сварог
5. К какому веку относятся крестовые походы на Русь...
- А) XI Б) XII В) XIII Г) XVI
6. Кто из названных пар лиц, были современниками: А) Мамай и Батый
Б) Челубей и Д. Донской В) А. Невский и Софья Палеолог Г) Иван III и Чингисхан
7. Какое событие произошло в 1237 г.?
- А) Битва на р. Калке б) начало похода Батыя на Русь
в) Невская битва. Г) Ледовое побоище
8. Какое событие произошло позже других: А) Стояние на Угре
Б) Ледовое Побоище В) Поход Олега на Царьград Г) Куликовская битва
9. Как назывались погодные изложения событий:
- А) баллады б) жития в) былины г) летописи
10. Первая большая победа русских войск над главными силами Орды произошла на
- А) р. Калке Б) р. Шелони В) р. Неве Г) Куликовом поле
11. С полюдьем связана гибель князя...
- А) Игоря Б) Олега В) Аскольда Г) Дира
12. Произведение «Слово о Законе и Благодати», созданное митрополитом Иларионом, относится к
- А) X веку Б) XI веку В) XII веку Г) XIII веку
13. О ком сказаны слова: « был в язычестве мстителем свирепым, а приняв веру Спасителя стал иным человеком...»
- А) Владимире Святославиче Б) Иване I В) Ярославе Мудром Г) Иване III

Рассмотрите карту «нашествие Батыя на Русь» и выполните задания 14-15.



14. Укажите год(ы), к которому(ым) относится события обозначенные на схеме стрелками
1) 1223 г. 2) 1236-1238 гг. 3) 1239-1242 гг. 4) 1257 – 1259 гг.
15. Укажите название реки, на которой произошла битва, обозначенная на схеме цифрой «1».

Часть 2.


Рассмотрите изображения памятников культуры и выполните задания 1, 2.



1.



2.



3. 4.

1. На каких двух из этих четырёх изображений представлены памятники культуры России, а на каких – памятники культуры зарубежных стран? Запишите в таблицу порядковые номера соответствующих памятников культуры. Ответ:

Памятники культуры России	Памятники культуры зарубежных стран

2. Выберите один из этих четырёх памятников культуры и укажите название города, в котором этот памятник культуры находится в настоящее время.

Ответ должен содержать цифру выбранного памятника и название города. Например, «3. Екатеринбург».

2. Установите соответствие между понятиями и их определениями:

- | | |
|------------|--------------------------------------|
| 1. ярлык | А. монгольские сборщики дани |
| 2. полюдь | Б. грамота от хана на право княжения |
| 3. баскаки | В. господство ордынцев, угнетение |
| 4. иго | Г. сбор дани на Руси |

3. Расположи правителей в порядке их правления:

А) Иван I Б) Иван III В) Василий III Г) Василий I

4. Установите соответствие между событиями и их датами

СОБЫТИЕ	Годы
1) призвание варягов	а) 1497
2) Невская битва	б) 1097
3) Судебник Ивана III	в) 1240
4) Любечский съезд	г) 862

5. Рассмотрите изображение и укажите, два верных суждения из пяти предложенных:



- 1). Данная марка выпущена к 600-летию со дня смерти изображённого на ней князя.
- 2). Изображение в левой части марки символизирует результаты Ледового побоища
- 3). Князь, изображённый на марке, участвовал в битве на реке Сити
- 4). Князь, изображённый на марке, подавил выступления новгородцев против переписи населения монголами.
- 5). Князь, изображённый на марке, был дядей родоначальника московской княжеской династии.

6. Прочитайте текст и напишите цифры предложений, в которых содержится ошибка.

Прочитайте текст, в котором каждое предложение пронумеровано. Данный текст содержит две ошибки. Фрагменты текста, в которых, возможно, сделаны ошибки, подчёркнуты и выделены полужирным шрифтом.

- 1) Своего расцвета Литовское государство достигло при князе Гедимине.
- (2) При нём столицей государства стал основанный им **город Вильно**.
- (3) Гедимин, оставаясь язычником, не ущемлял права православной церкви.
- (4) После смерти Гедимина Литовским государством правил его **сын** Ольгерд.
- (5) Во время княжения Ольгерда к Литовскому государству были присоединены **Полоцкая, Витебская, Минская и Брестская** земли. (6) После смерти Ольгерда в 1377 г. в Литовском княжестве начались новые усобицы, в результате которых у власти оказались сын Ольгерда **Казимир** и племянник Витовт.

Часть 3.

Прочитайте отрывок из сочинения историка и выполните задания.

Оставив вправо от себя верховья Оки, Ахмат пришёл на р. Угру, в пограничные между Москвой и Литвой места. Но и здесь он не получил никакой помощи от Литвы, а Москва встретила его сильной ратью. На Угре и стали друг против друга Ахмат и Иван III — оба в нерешимости начать прямой бой. Иван III велел готовить столицу к осаде, отправил свою жену Софью из Москвы на север и сам приезжал к Москве, боясь как татар, так и своих родных братьев. Они были с ним в ссоре и внушали ему подозрение в том, что изменят в решительную минуту. Осмотрительность Ивана и медлительность его показали народу трусостью, и простые люди, готовясь в Москве к осаде, открыто негодовали на Ивана.

1.

Назовите событие, о котором идёт речь в данном отрывке. Укажите год, когда оно произошло

2. Какие меры, принятые Иваном III, свидетельствуют о том, что он не был полностью уверен в победе в случае сражения с врагом? Укажите две меры.

3. Чем закончилось противостояние, описываемое в отрывке? Укажите значение этого события для внешнеполитического положения Российского государства

